


الدرجة: الأولى السنة: الأولى	تقييم مكتسبات التلاميذ في الرياضيات الملف 1-1 حد (الفضاء)	المدرسة الابتدائية الإصلاح
العدد المسند:	الرقم: .....	الاسم و اللقب: .....

اِحْتَفَلَتْ كَرِيمَةٌ بِعِيدِ مِيلَادِهَا فَجَاءَهَا أَصْدِقَاؤُهَا وَحَمَلُوا مَعَهُمُ الْهَدَايَا.

التعلیمة 1 حد



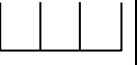
قَدِمَ الْأَرْنَبُ وَ السُّلْحَفَاةُ وَ الْقِطَّةُ.

\* قَفَزَ الْأَرْنَبُ فَوْقَ الطَّاوَلَةِ.

\* وَقَفَتِ السُّلْحَفَاةُ تَحْتَ الطَّاوَلَةِ.

\* أَمَّا الْقِطَّةُ فَوَقَفَتْ عَلَى يَسَارِ كَرِيمَةَ.

أَرْسُمُ كُلَّ حَيَوَانٍ فِي الْمَكَانِ الْمُنَاسِبِ لَهُ.





مع 1

التعلیمة 2 حد

وَضَعَ الْأَرْنَبُ هَدِيَّتَهُ فَوْقَ الطَّاوَلَةِ. أَمَّا السُّلْحَفَاةُ فَوَضَعَتْهَا تَحْتَ الطَّاوَلَةِ.

\* أَلْوَنُ بِالْأَحْمَرِ هَدِيَّةَ الْأَرْنَبِ.

\* أَضَعْ هَدِيَّةَ السُّلْحَفَاةِ دَاخِلَ خَطِّ مُغْلَقٍ.



مع 4 أ




مع 4 ب

التعلیمة 3 حد

دَخَلَتْ الْأُمُّ وَقَدْ حَمَلَتْ مَعَهَا كَعْكَةً شَهِيَّةً وَوَضَعَتْهَا فَوْقَ الطَّاوَلَةِ بِجَانِبِ الْهَدَايَا.

\* أَبْحَثْ عَنِ الْكَعْكَةِ وَالْوَلُّهَا.

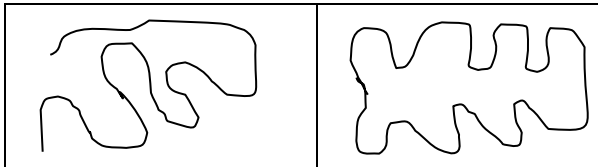


مع 4 أ

التعلیمة 4 حد

بَعْدَ الْإِنْتِهَاءِ مِنْ عِيدِ الْمِيلَادِ خَرَجَتْ كَرِيمَةُ مَعَ أَصْدِقَائِهَا إِلَى الْحَدِيقَةِ لِلْعِب. فَرَسَمُوا خَطًّا مُغْلَقًا.

\* أَضَعْ عَلَامَةَ (x) تَحْتَ الْخَطِّ الْمُغْلَقِ.



مع 4 ب

أَعْمَضَتْ كَرِيمَةً عَيْنَيْهَا وَبَقِيَتْ دَاخِلَ الْخَطِّ الْمُعْلَقِ أَمَّا أَصْدِقَاؤُهَا فَقَدْ اخْتَبَوْا.

- اخْتَبَأَ الْأَرْزَبُ تَحْتَ الزَّهْرَةِ.
  - اخْتَبَأَتْ السُّلْحَفَاءُ بِجَانِبِ الْمَنْزِلِ.
  - أَمَّا الْقَطُّ فَقَدْ اخْتَبَأَ فَوْقَ الشَّجَرَةِ.
- \* أَضَعُ عَلَامَةً (x) لِأَحَدِ مَكَانِ الْأَرْزَبِ.



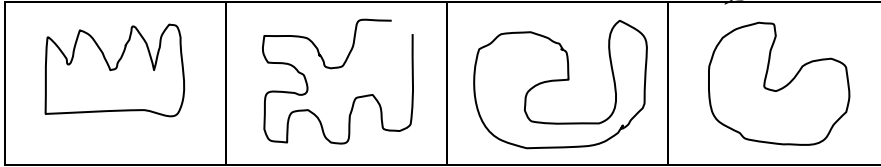
مع4ب

التعليمية 5 دد

بَعْدَ الْإِنْتِهَاءِ مِنَ اللَّعْبِ قَطَفَ الْأَطْفَالُ مَجْمُوعَةً مِنَ الزُّهُورِ ثُمَّ جَلَسُوا عَلَى الْعُشْبِ وَكَوَّنُوا بِهَا خَطًّا مَفْتُوحًا!.

\* أَبْحَثْ عَنِ الْخَطِّ الْمَفْتُوحِ وَأُلَوِّنْهُ بِالْأَحْمَرِ.

مع4ب



التعليمية 6 دد

أَضَعُ نَفْسِي مَكَانَ الْأَصْدِقَاءِ ثُمَّ أَرْسُمُ خَطًّا مَفْتُوحًا عَلَى يَسَارِي وَخَطًّا مُغْلَقًا عَلَى يَمِينِي.

مع4ب

--	--

### جدول إسناد الأعداد

التميز	معايير الحد الأدنى			
	مع4ب	مع4أ	مع1	
5	0	0	0	انعدام التملك (---)
2.5	1.5	2	1.5	دون التملك الأدنى (+--)
2.5	3	4	3	التملك الأدنى (++)
5	4.5	6	4.5	التملك الأقصى (+++)